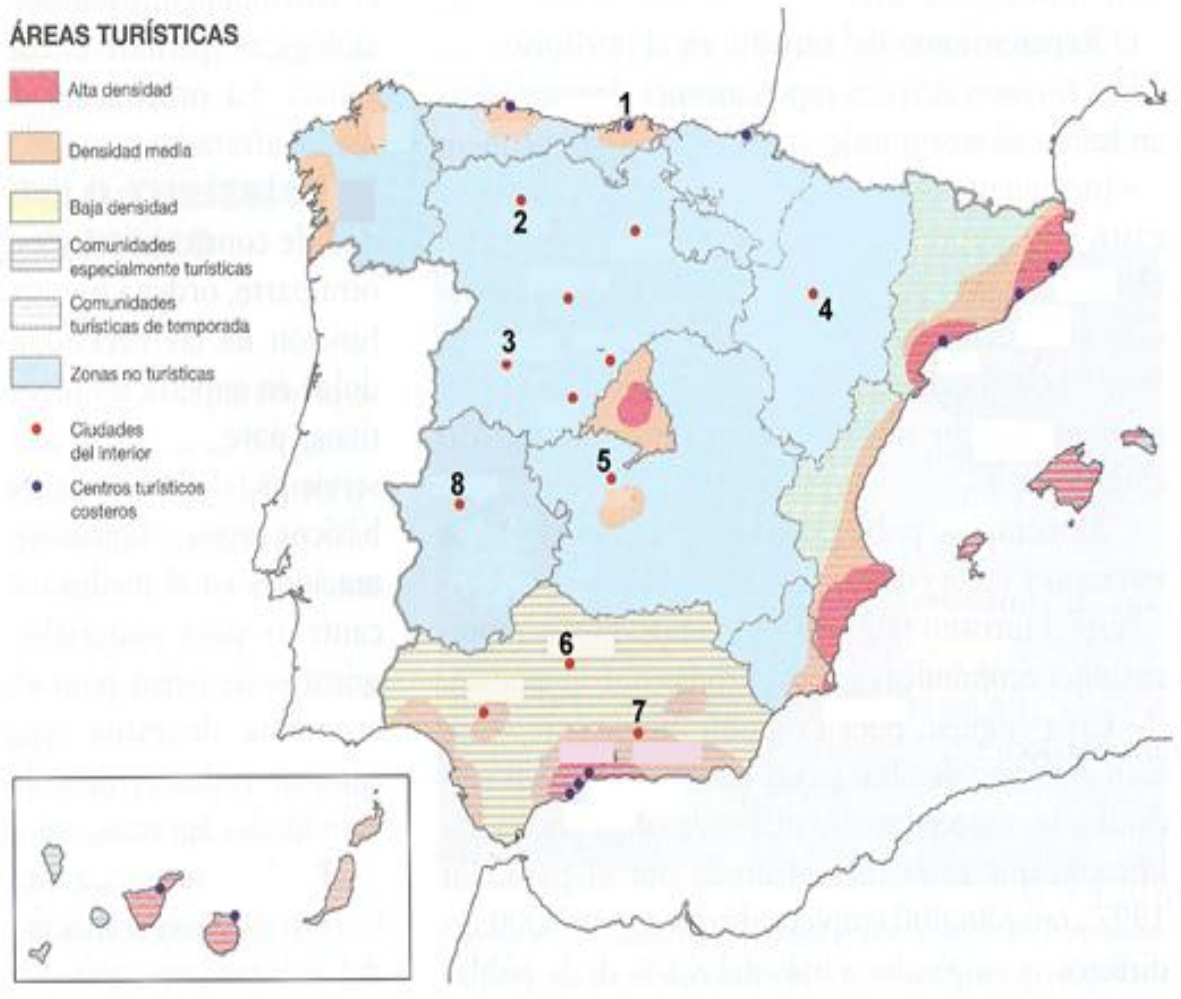


2. Analice el mapa de España en el que se especifican las áreas turísticas. Responda a las siguientes cuestiones:

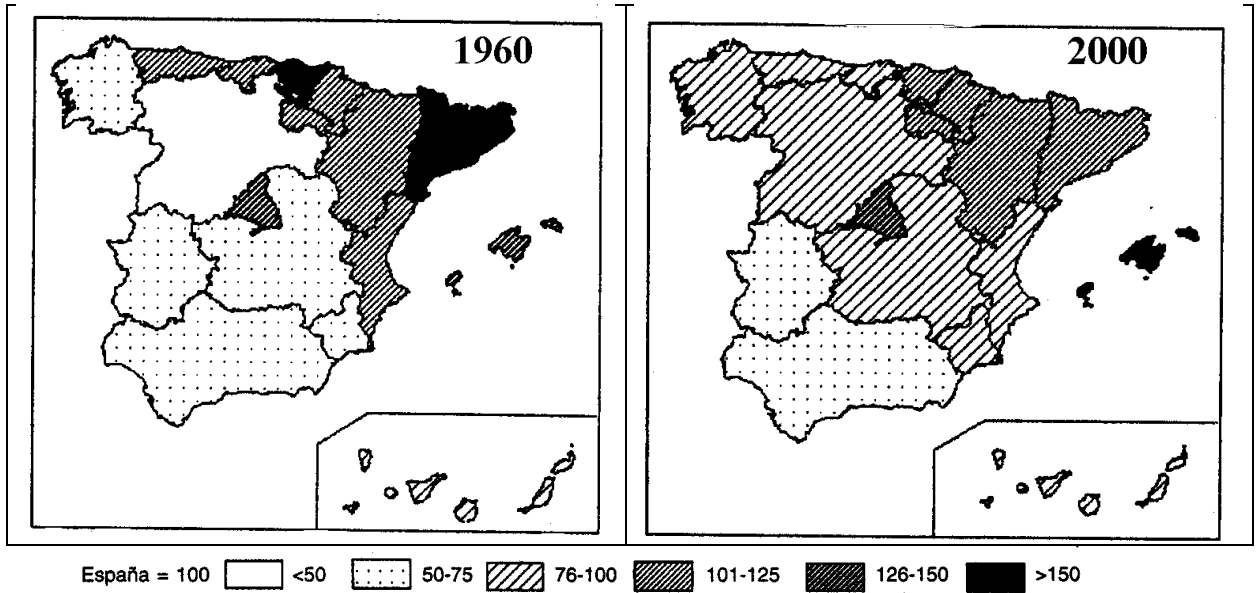
- Correlacione los números del 1 al 8 con las ciudades a las que corresponden e indique qué tipo de turismo predomina en cada una de ellas.
- Nombre las provincias con alta densidad turística e indique qué tipo de turismo predomina en cada una de ellas.
- Explique los contrastes entre las áreas turísticas atlánticas y mediterráneas
(**Valoración:** hasta 3 puntos)



2. El mapa representa la distribución del PIB en la Península Ibérica y Baleares, en 1960 y 2000. Analízelo y responda a las siguientes preguntas:

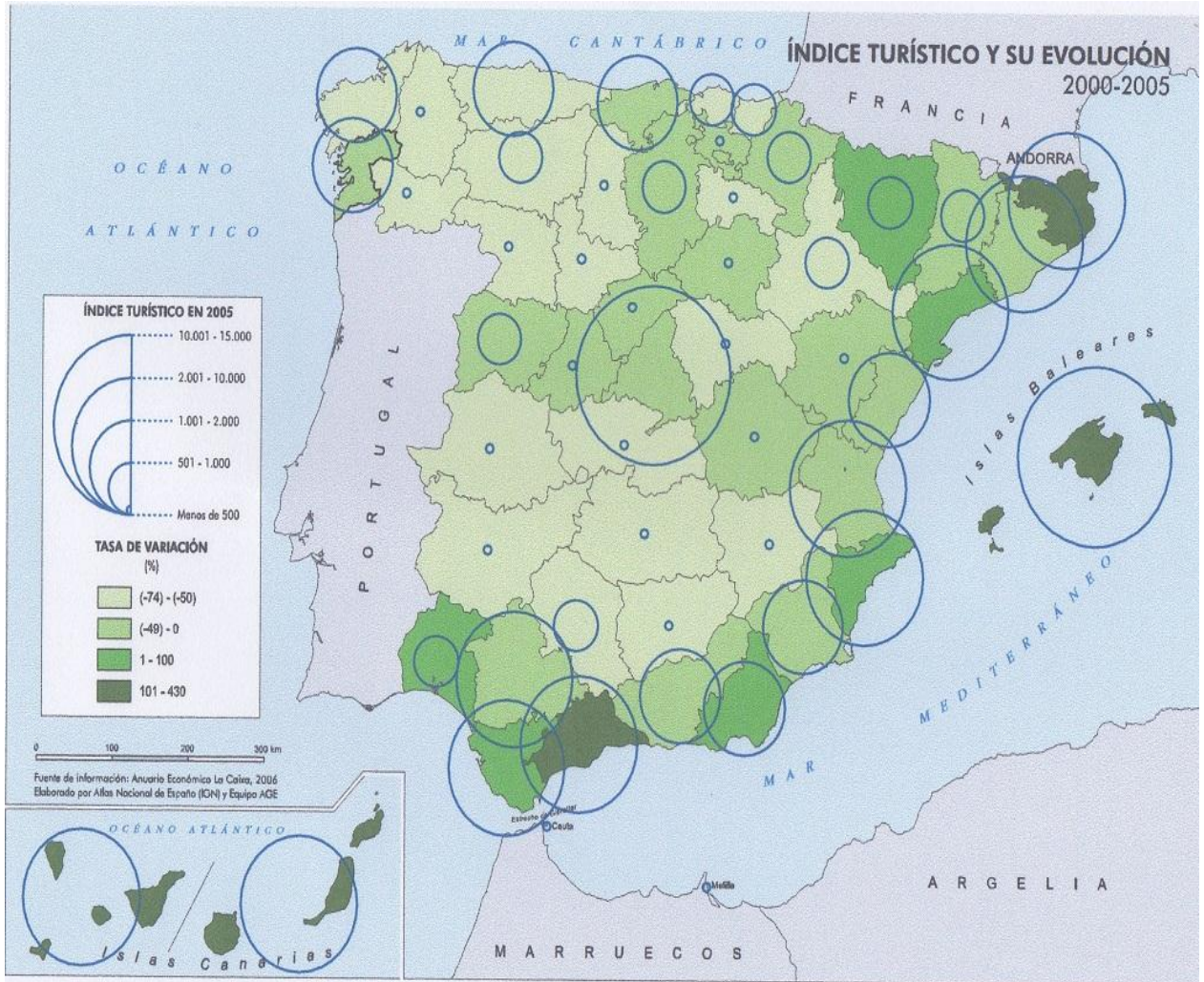
- a) Diga el nombre de las Comunidades Autónomas que en ambas fechas, conjuntamente, están por encima del valor 100, que es el índice nacional.
- b) Describa los cambios que se experimentan de una fecha a otra.
- c) Explique las posibles causas de los cambios que se observan en los valores entre una fecha y otra.

(Valoración: hasta 3 puntos)



En el siguiente mapa se representa el índice turístico y su evolución entre 2000- 2005. Responde a las siguientes preguntas:

- Entre 2000 y 2005: ¿en qué zonas se ha incrementado la actividad turística? ¿Qué razones lo explican?
- ¿En qué áreas se localiza la actividad turística en España? ¿Por qué?
- Enumera las provincias que registran una tasa de variación entre 1 y 100.



En el siguiente mapa se representa el volumen de turistas extranjeros y su evolución entre los años 2005 y 2006. Analícelo y responda a las siguientes preguntas:

- ¿Qué lugares concentran el mayor volumen de turistas extranjeros?
- ¿En qué comunidades autónomas se ha producido un mayor incremento de sus visitas en los últimos años?

