

## Practicas Tema 10.

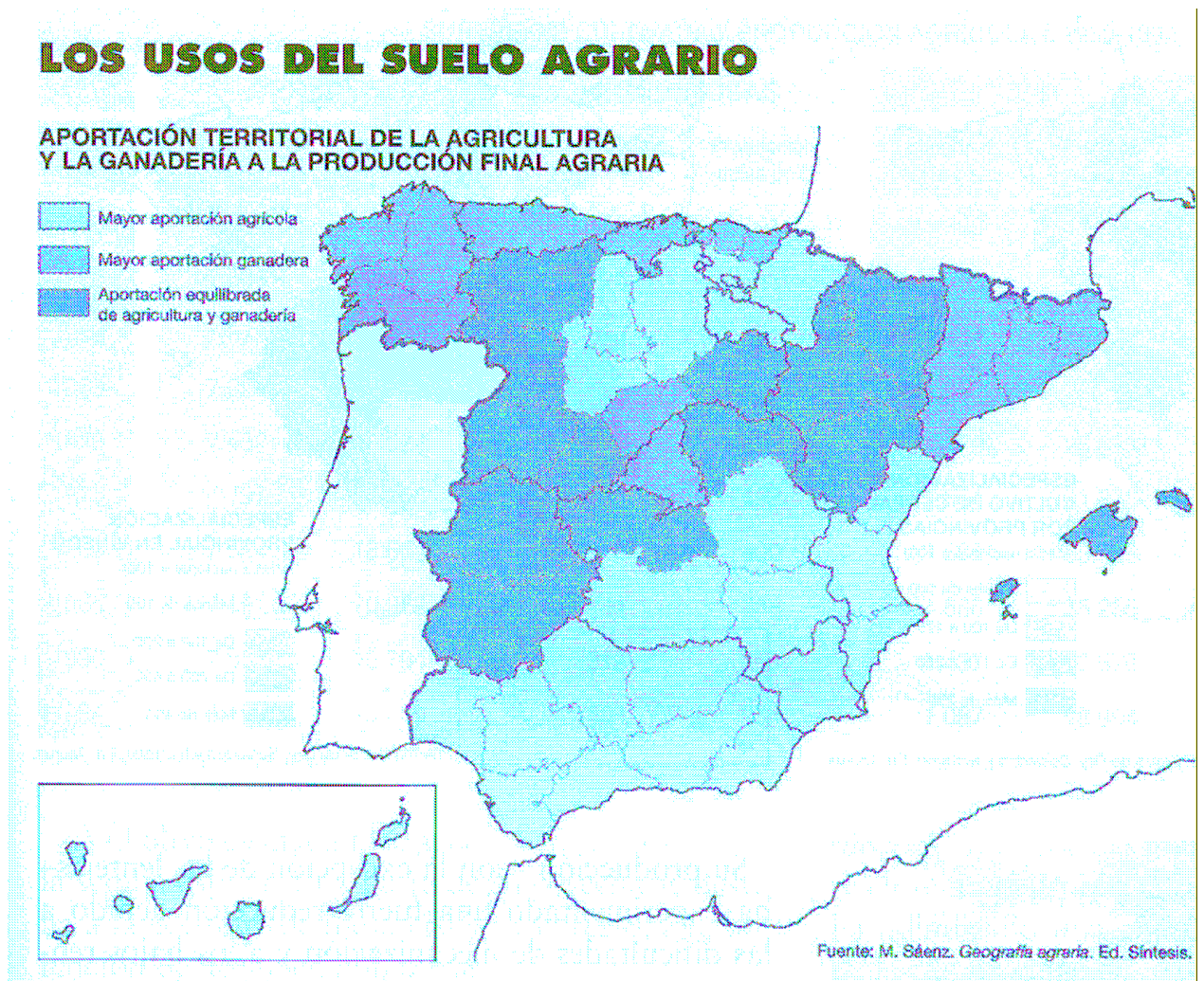
En el mapa siguiente se representa la distribución de las áreas de regadío. Con esta información conteste a las preguntas siguientes:

- Diga del 1 al 7 el nombre de las Comunidades Autónomas señaladas, afectadas por el máximo regadío.
- Deduzca de la información del mapa las posibles causas que explican la localización de la agricultura de regadío en la Península Ibérica.
- Enumere los cultivos predominantes en las tierras de regadío de España.
- ¿Qué área es la más densamente ocupada por los regadíos? ¿Cómo son sus temperaturas y precipitaciones?
- Relaciona este mapa con el problema del agua en la actualidad en España.



**1. El mapa representa los usos del suelo agrario. Analícelo y conteste las cuestiones siguientes:**

- a) Nombre todas las provincias que tienen una aportación equilibrada de agricultura y ganadería
- b) ¿Qué relaciones pueden existir entre cada uno de estos usos y las condiciones naturales de España?
- c) Elementos predominantes en los paisajes de las áreas con mayor aportación agrícola y elementos predominantes en los paisajes de las áreas con mayor aportación ganadera.

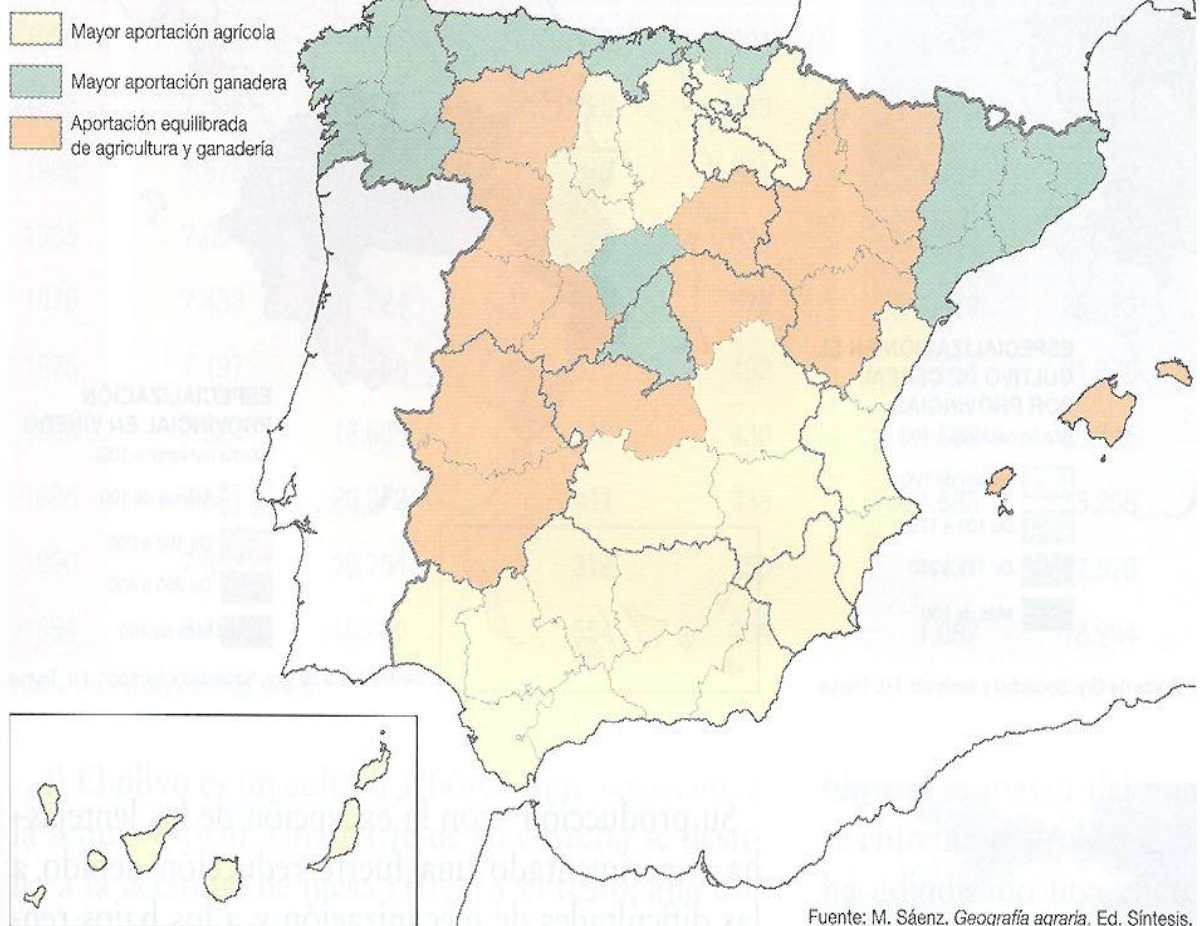


**2. El mapa representa los usos del suelo agrario. Analícelo y conteste las cuestiones siguientes:**

- a) Nombre todas las provincias que tienen una *aportación equilibrada de agricultura y ganadería*
- b) ¿Qué relaciones pueden existir entre cada uno de estos usos y las condiciones naturales de España?
- c) Elementos predominantes en los paisajes de las áreas con mayor aportación agrícola y elementos predominantes en los paisajes de las áreas con mayor aportación ganadera. Enumérelos y distíngalos.

## LOS USOS DEL SUELO AGRARIO

### APORTACIÓN TERRITORIAL DE LA AGRICULTURA Y LA GANADERÍA A LA PRODUCCIÓN FINAL AGRARIA

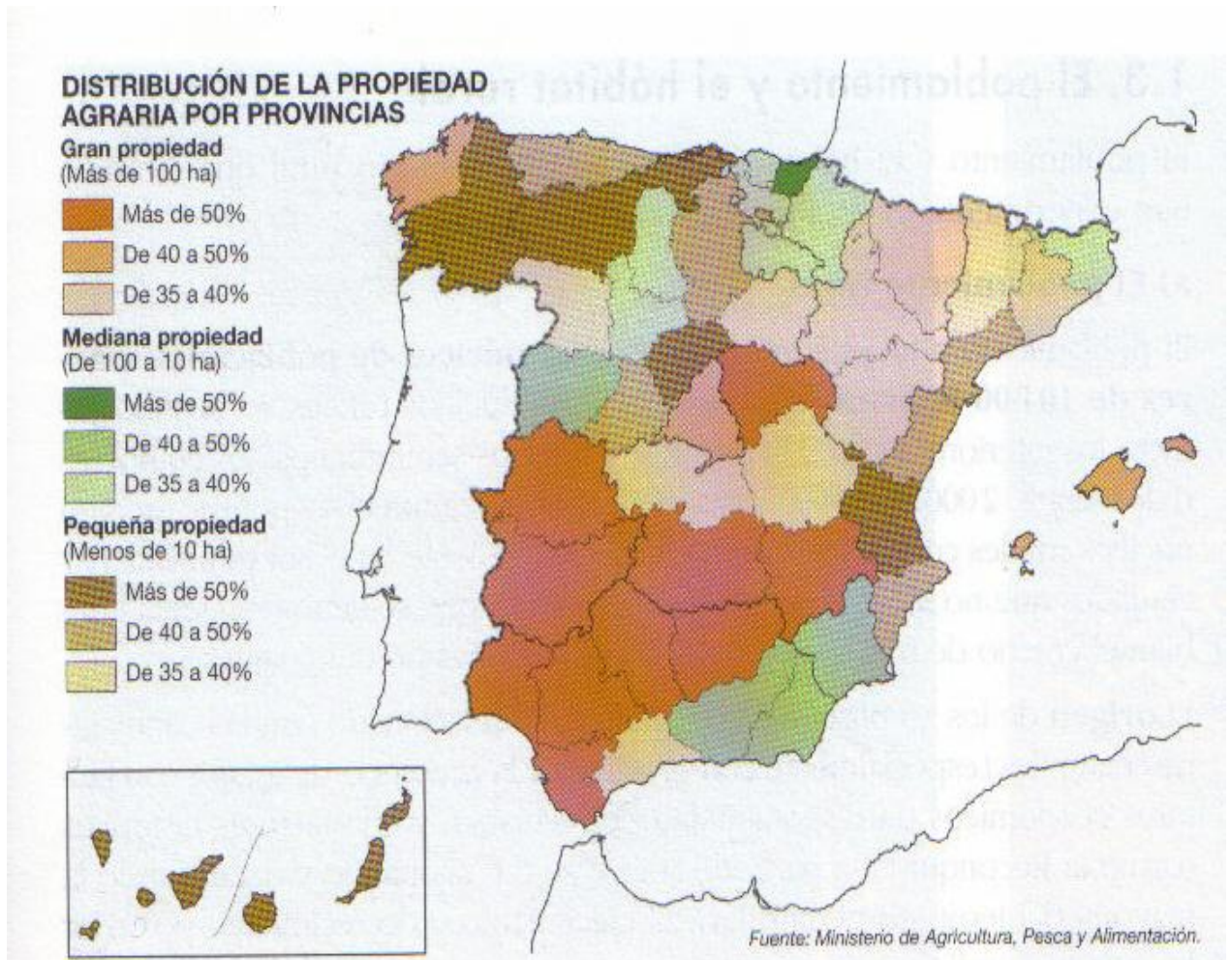




**2. En el mapa se representa la distribución de la propiedad agraria por provincias.**

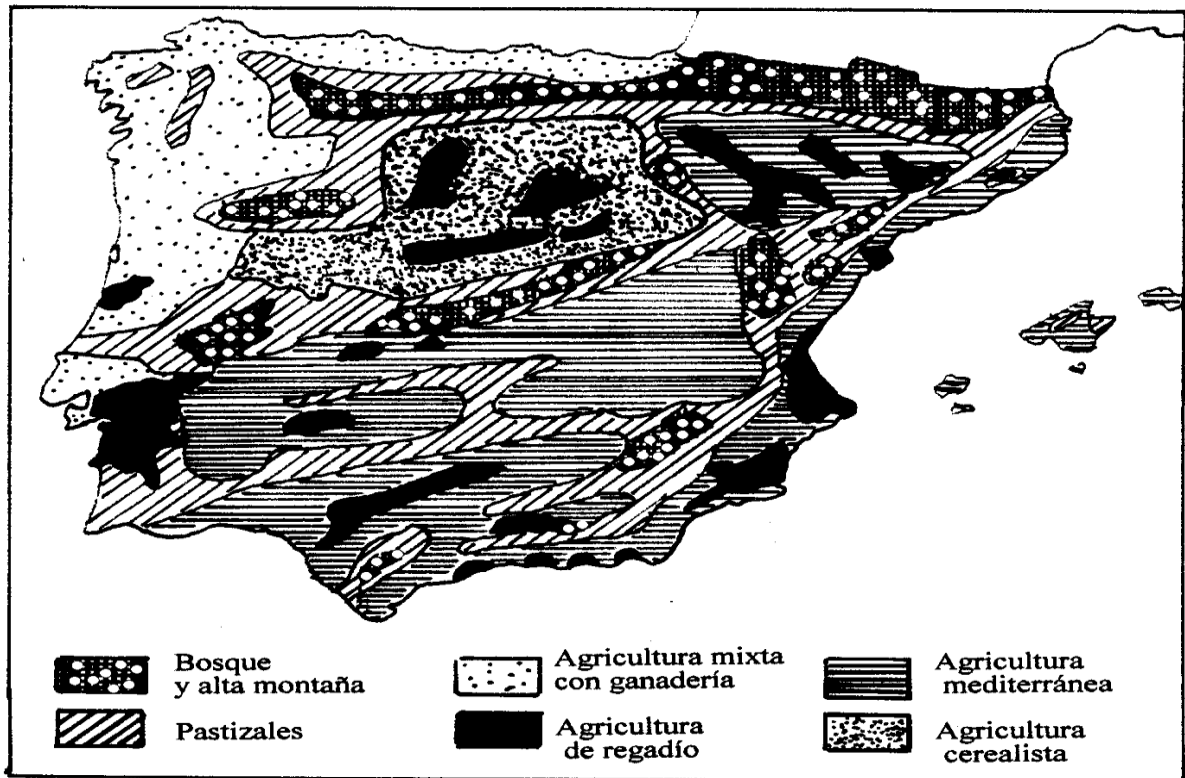
**Conteste a las siguientes preguntas.**

- a) ¿En qué provincias la gran propiedad o latifundio supone más del 50% del total de la propiedad agraria?
- b) ¿En qué provincias la pequeña propiedad o minifundio supone más del 50% del total de la propiedad agraria?
- c. Explica las causas que han provocado dicha distribución y las consecuencias que se han derivado de ellas



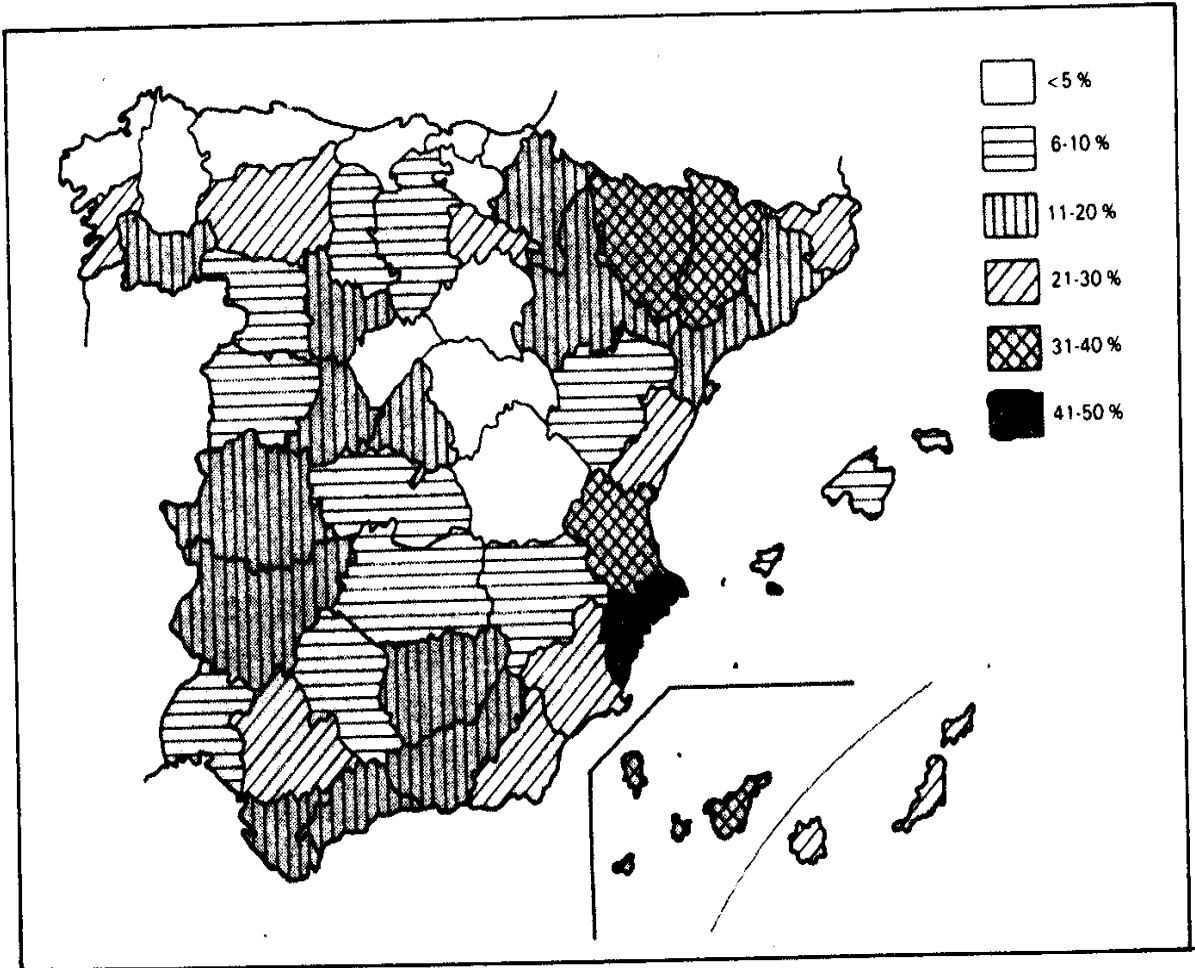
**4. El mapa representa la distribución de los diferentes tipos de usos y aprovechamientos agrarios en la P. Ibérica y Baleares. Analícelo y responda a las siguientes preguntas:**

- Diga el nombre de las Comunidades Autónomas donde se localiza la agricultura mixta con ganadería. Explique algunas causas.
- Explique qué relación existe entre la localización de los bosques y los pastizales y las unidades de relieve peninsular. ¿Cómo se deduce dicha relación de la información del mapa?
- Deduzca de la información del mapa las posibles causas que explican la localización de la agricultura de regadío en la Península Ibérica.



2. En el mapa siguiente se representa la proporción de regadío (%) en relación con la superficie labrada, en cada una de las provincias españolas. Con esta información conteste a las preguntas siguientes:

- Cuáles son las provincias que tienen una proporción de regadío superior al 30%.
- Hay dos grupos de provincias que tienen en regadío menos del 5% de sus tierras labradas. Diga cuáles son esos dos grupos y las causas que explicarían la existencia de uno y otro.
- Enumere los cultivos predominantes en las tierras de regadío de España.



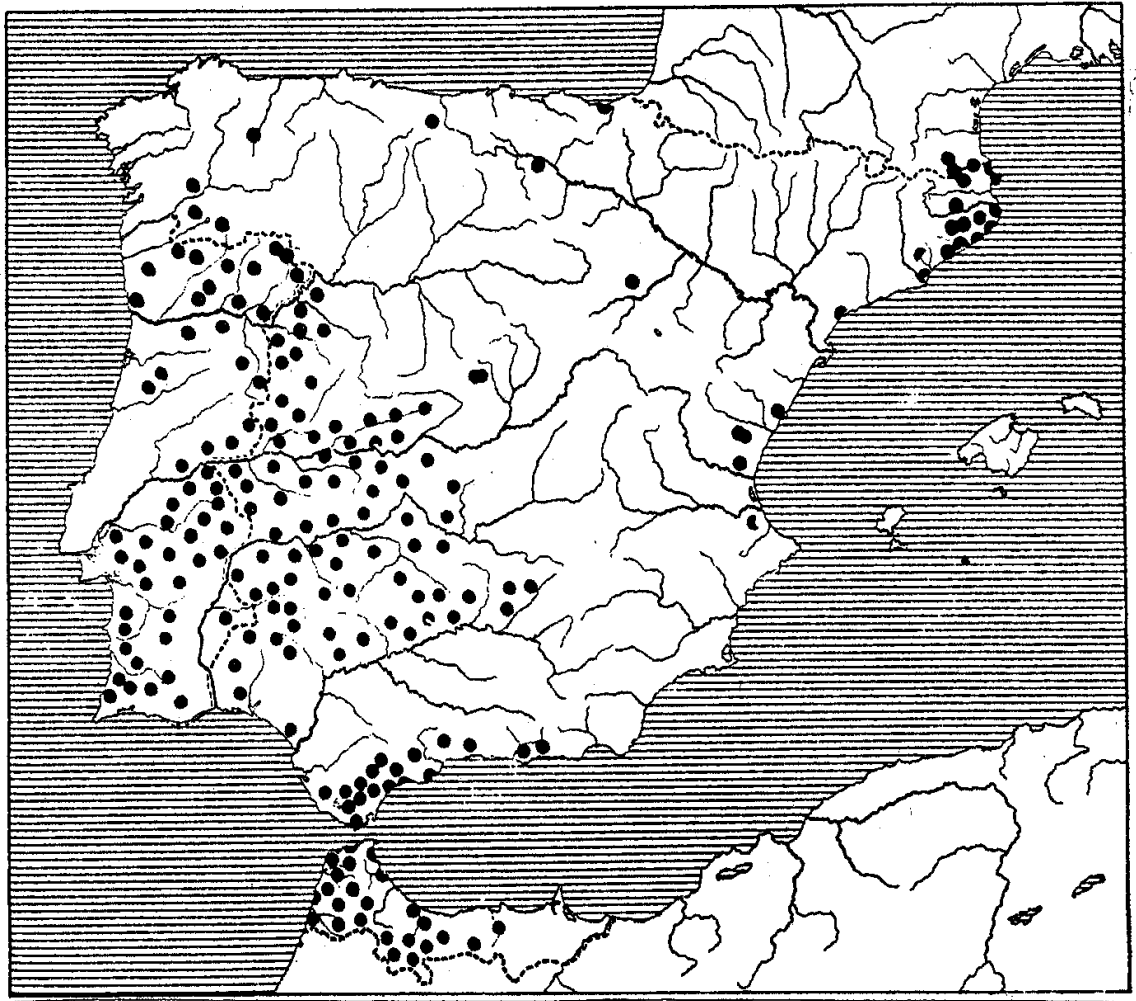
**2. El mapa representa la distribución de los diferentes paisajes agrarios de España. Analícelo y responda a las siguientes preguntas:**

- Diga el nombre de las Comunidades Autónomas donde se localizan los paisajes agrarios de la *España húmeda (ganadera y forestal)*. Explique algunas causas.
- Explique los factores geográficos que condicionan la localización de los paisajes de la *España mediterránea cálida*.
- Deduzca de la información del mapa los cultivos dominantes que se producen en el *interior peninsular*.



2. El mapa representa la distribución del alcornoque en la Península Ibérica. Analícelo y responda a las siguientes preguntas:

- a) Diga el nombre de las Comunidades Autónomas donde se localiza predominantemente.
- b) Qué relación existe entre esta distribución y la litología peninsular.
- c) Explique qué actividades agrarias están relacionadas con esta especie vegetal.





**2. En el mapa se representa la distribución de la propiedad agraria por provincias. Conteste a las siguientes preguntas:**

- a) ¿En qué provincias la pequeña propiedad supone más del 50% del total de la propiedad agraria? ¿Son sinónimos "pequeña propiedad" y "minifundio"? Si no lo fuesen cuáles serían las diferencias.
- b) ¿En qué provincias la gran propiedad supone más del 50% del total de la propiedad agraria? ¿Son sinónimos "gran propiedad" y "latifundio"? Si no lo fuesen cuáles serían las diferencias.
- c) Explique las causas de las que deriva esta distribución y las consecuencias principales que se han derivado de ella

