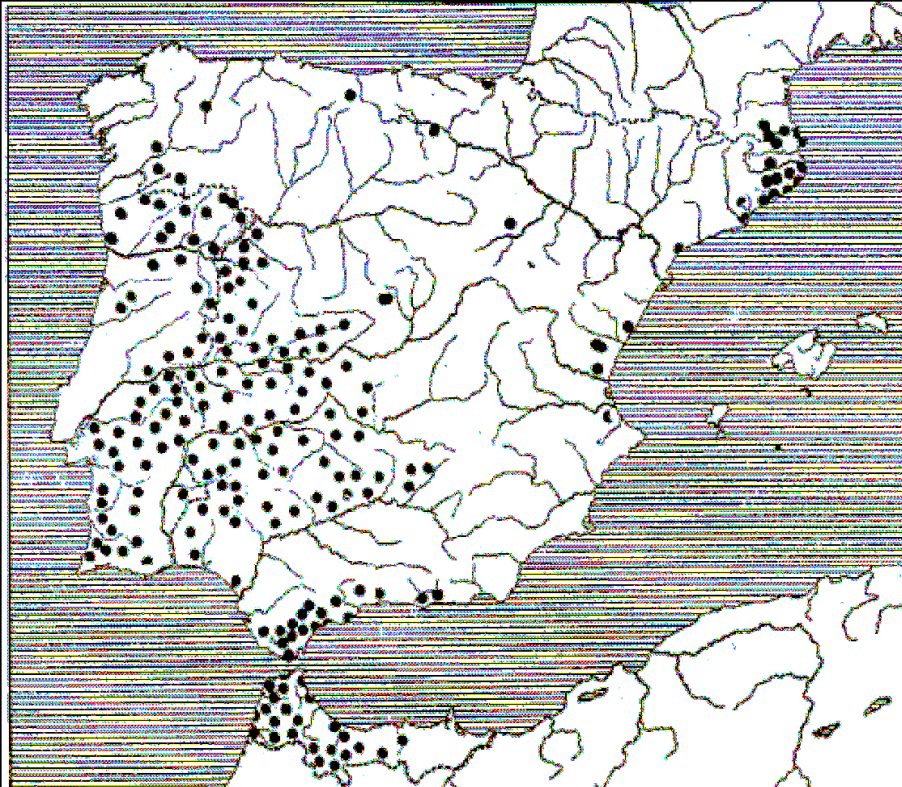


# LA VEGETACIÓN EN ESPAÑA

1. El mapa representa la distribución del alcornoque en la Península Ibérica.

Analícelo y responda a las siguientes preguntas:

- Diga el nombre de las cinco Comunidades Autónomas donde se localiza predominantemente.
  - Qué relación existe entre esta distribución y la litología peninsular.
  - Explique qué actividades económicas están relacionadas con esta especie vegetal.
- A qué modelo de estructura demográfica corresponde cada una de estas figuras?  
Razone la respuesta explicando brevemente las causas que dan lugar a ambos modelos, al comienzo y al final del siglo XX.

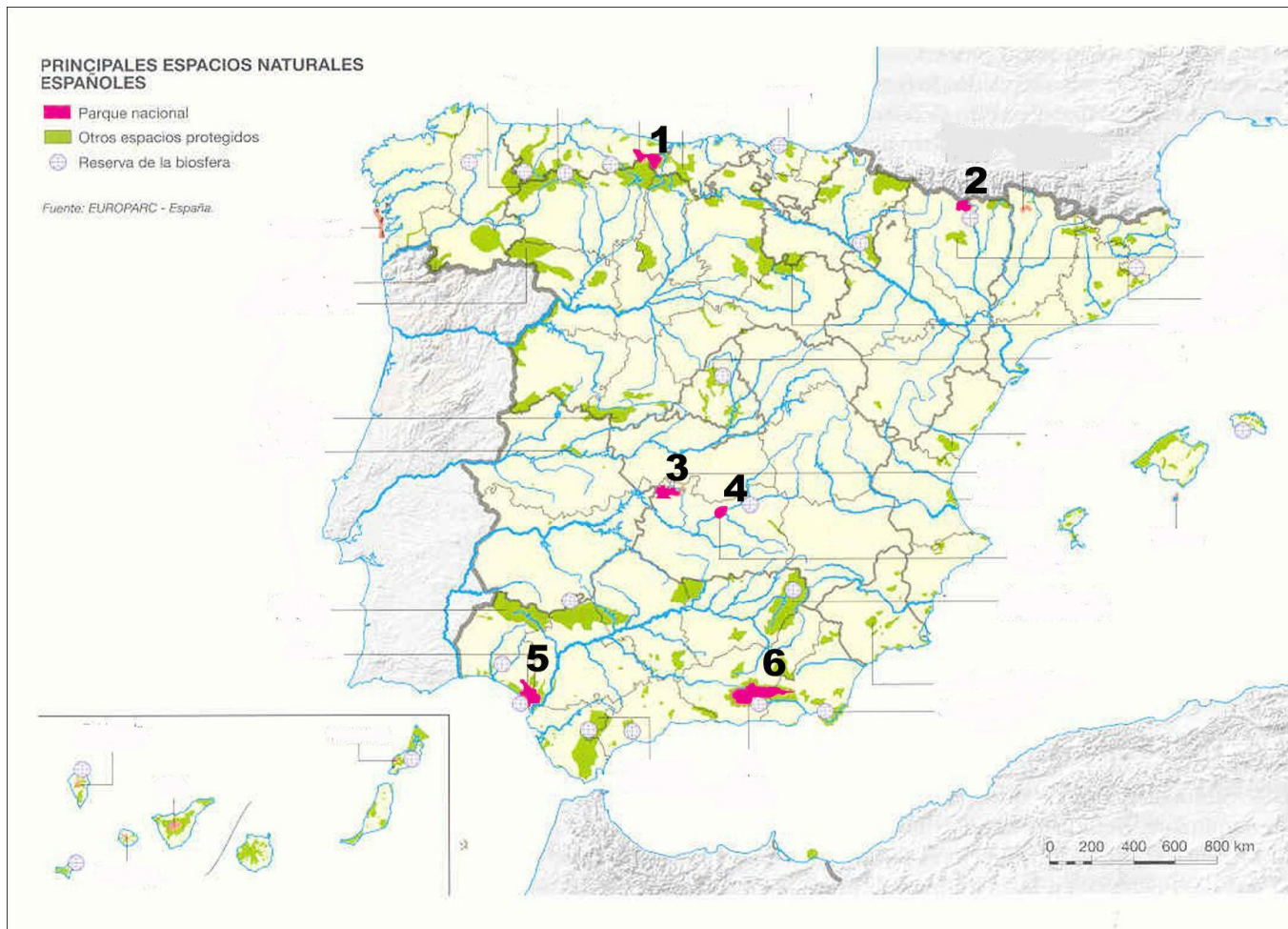


2. Los mapas representan la distribución de cuatro especies arbóreas en la Península Ibérica. Obsérvelos y responda a las siguientes preguntas:
- Diga el nombre de las provincias en cuyo territorio se encuentra el haya.
  - ¿Qué relación existe entre la distribución de cada una de estas cuatro especies y los caracteres naturales de la Península?
  - Explique qué actividades económicas están relacionadas con el alcornoque y cuáles con la encina. Razónelo brevemente.



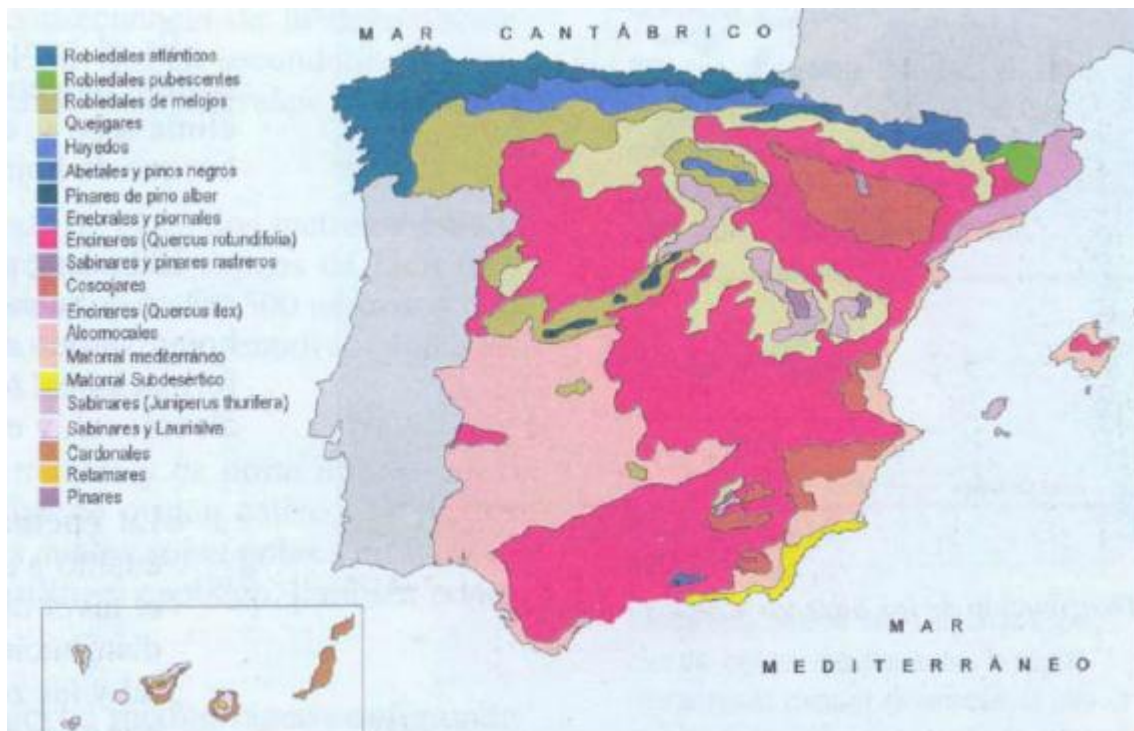
3. El mapa muestra el sistema de espacios protegidos en España:

- Identifique y dé nombre a los espacios protegidos con categoría de Parque Nacional, enumerados del 1 al 6.
- Identifique, en el mismo orden, la provincia o provincias sobre las que se encuentran.
- Explique la importancia de su conservación y su función desde distintos puntos de vista.



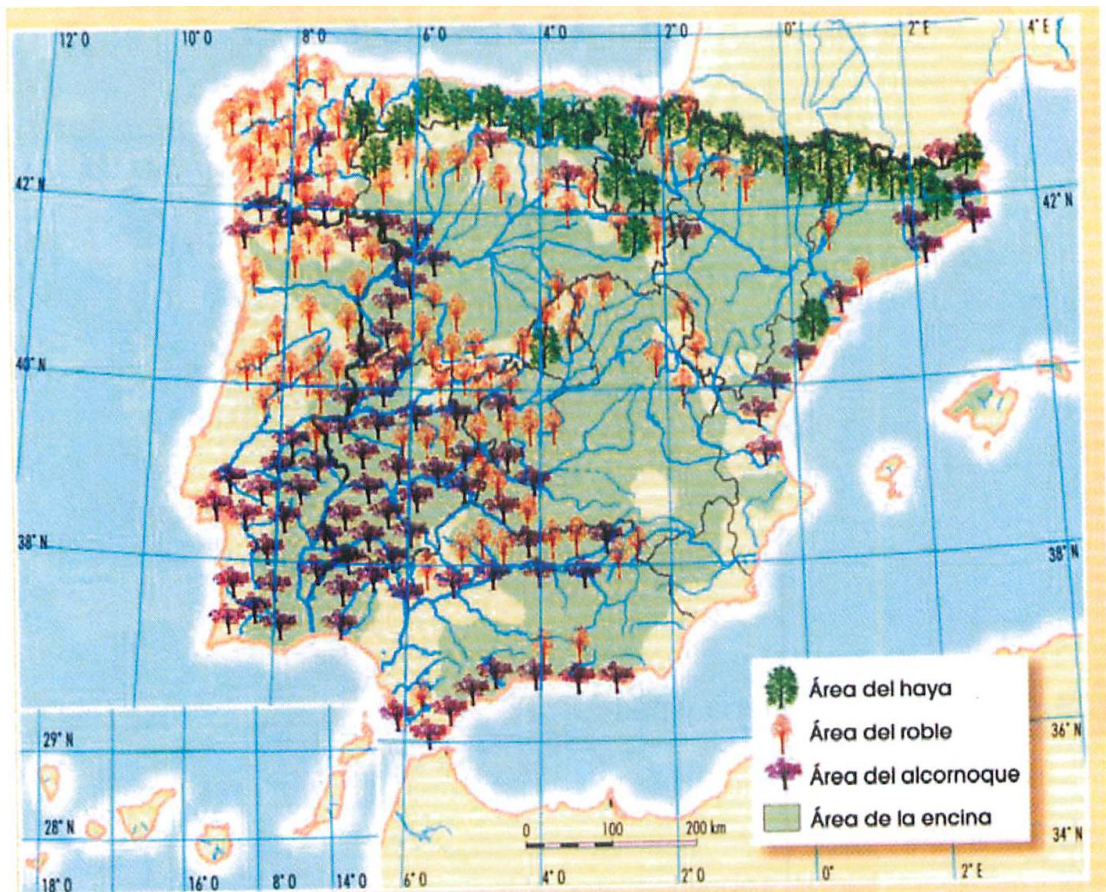
**En el siguiente mapa se representan las distintas formaciones vegetales de España. Con la información que contiene, conteste a las siguientes preguntas:**

- Diga las Comunidades Autónomas sobre las que se localizan los robledales en general, y el hayedo.
- Diga las provincias sobre las que se extiende el matorral subdesértico.
- Explique la relación que existe entre la distribución de las formaciones vegetales citadas y otros elementos del medio natural.



**2. En el mapa se representa la extensión superficial de algunos árboles característicos de la vegetación española. Obsérvelo y conteste a las siguientes preguntas:**

- Indique el nombre de las Comunidades Autónomas donde se localiza, predominantemente, el alcornoque y cite las provincias en las que no hay encinas. (Hasta 1 punto).
- ¿Sobre qué zonas litológicas se extiende el alcornoque? Explique las características de la encina que justifican su extensa distribución. De las especies señaladas en la leyenda, diga las que forman bosques caducifolios y cuáles forman bosques perennifolios. (Hasta 1,5 puntos).
- ¿Qué factores explican la mayor presencia de masas forestales en el oeste y norte de la Península? (Hasta 1,5 puntos).



2. El mapa representa la distribución del alcornoque en la Península Ibérica. Analicelo y responda a las siguientes preguntas:

- Diga el nombre de las provincias afectadas por la mancha más grande del mapa.
- Qué relación existe entre esta distribución y la litología peninsular.
- Explique qué actividades económicas están relacionadas con esta especie vegetal.

